

МОСКОВСКАЯ ОЛИМПИАДА ШКОЛЬНИКОВ ПО ФИНАНСОВОЙ ГРАМОТНОСТИ

ЗАКЛЮЧИТЕЛЬНЫЙ ЭТАП

2024–2025 учебный год

11 КЛАСС

Задание 1.

Посмотрите отрывок из мультипликационного фильма «Три богатыря на дальних берегах» (2012) и выполните задания.

1.1.

А) Есть ли в действиях бояр признаки правонарушения? Аргументируйте свою позицию с точки зрения российского законодательства.

Б) Назовите явление, изображённое в эпизоде общения Колывана с боярами. Как первый боярин объясняет природу названного им явления? Приведите ещё две причины возникновения данного явления.

В) Приведите по два экономических последствия явления, о котором говорит боярин в видеофрагменте, для общества в целом и для отдельных предпринимателей.

Г) Укажите три государственных органа Российской Федерации, в полномочия которых входит борьба с явлением, указанным боярином в видеофрагменте.

1.2.

В статье, представленной проектом «РБК Тренды», эксперты рассматривали одно из распространённых на сегодняшний день явлений:

«Массовым явлением стало появление в сети Интернет людей, которые продают свои продукты, не несущие ценности. Чаще всего это известные в соцсетях блогеры-миллионники, которые называют себя коучами. Они обещают за небольшую плату раскрыть секрет успешной жизни и богатства, но по факту их продукты часто состоят из информации, которую можно найти по первым ссылкам в интернете. Вместо конкретных знаний они обращаются к эзотерическим или психологическим практикам, рассказывают, как нужно ставить цели, быть уверенным в себе или правильно загадывать желания. Например, за 10 тыс. покупателю курса предложат очистить пространство и выбросить старые вещи.

Сферы, в которых чаще всего можно встретить такие предложения: психология и здоровье, семейные отношения, соцсети и SMM, фитнес, арбитраж трафика, выход на маркетплейсы. Некоторые курсы даже посвящены способам “лечения” различных болезней псевдонаучными способами».

А) Можно ли рассматривать действия Колывана (барона фон Курдюка), показанные в видеофрагменте, как иллюстрацию явления, о котором идёт речь во фрагменте? Аргументируйте своё мнение.

Б) В 1989 году на Центральном телевидении вышла серия передач «Сеансы здоровья врача-психотерапевта Анатолия Кашпиrowsкого», в ходе которых целитель осуществил беспрецедентное по своим масштабам излечение от самых различных заболеваний около 10 миллионов человек всего за 6 часов телевизионного эфира. Используя набор психотерапевтических приёмов, он включал в человеке систему саморегуляции, которая обеспечивает выработку в организме необходимых веществ, позволяющих справиться с болью, а также с тем или иным заболеванием. «Наш организм – это аптека, вся таблица Менделеева».

Можно ли отнести эту серию передач к явлению, о котором идёт речь в статье «РБК Тренды»? Аргументируйте свой ответ.

В) С описанным в статье явлением достаточно сложно бороться на законодательном уровне. Приведите две вероятные причины данных сложностей.

Г) Несмотря на то, что пострадавшим от этих действий людям, о которых шла речь в статье, сложно добиться справедливости, есть несколько результативных способов восстановления своих прав и возврата утраченного имущества. Приведите два таких способа.

1.3.

Проанализируйте поведение старушки (Бабы-яги) в видеофрагменте при встрече с богатырями.

А) Укажите термин, которым обозначают вид мошенничества, элементы которого можно отметить в поведении Бабы-яги. Перечислите не менее трёх элементов.

Б) На основании социального опыта приведите не менее двух действий богатырей, которые избавили бы их от неправомερных действий старушки.

В) Почему согласно российскому законодательству действия Бабы-яги не рассматривались бы как мошенничество? Приведите развёрнутое объяснение.

1.4.

Герои видеофрагмента, попав на море, рассуждают об отпуске.

Представьте, что Вы финансовый консультант, к которому герои обратились за советом, как не разориться, отправившись в отпуск. Приведите три рекомендации, которые Вы бы им дали.

Задание 2.

Ознакомьтесь с результатами исследования, проведённого Банком России, НИУ ВШЭ, РЭШ, МГУ и РАНХиГС в 2024 г., и выполните задания.

Рисунок 1

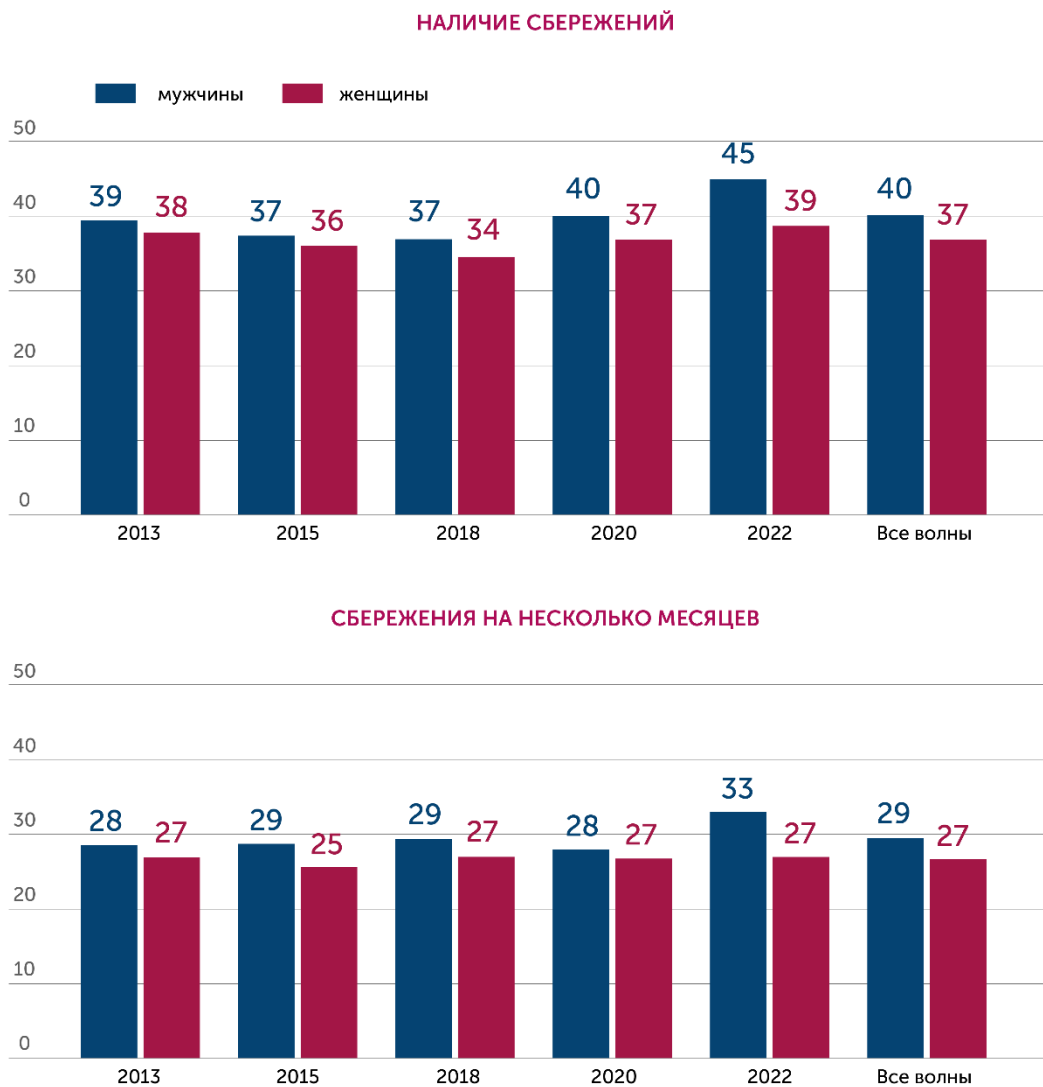


Рисунок 2

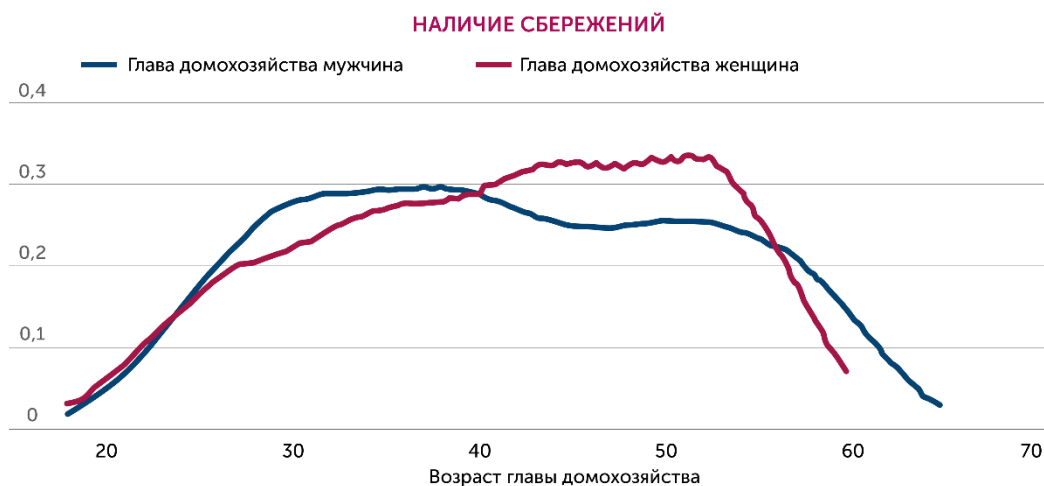


Рисунок 3

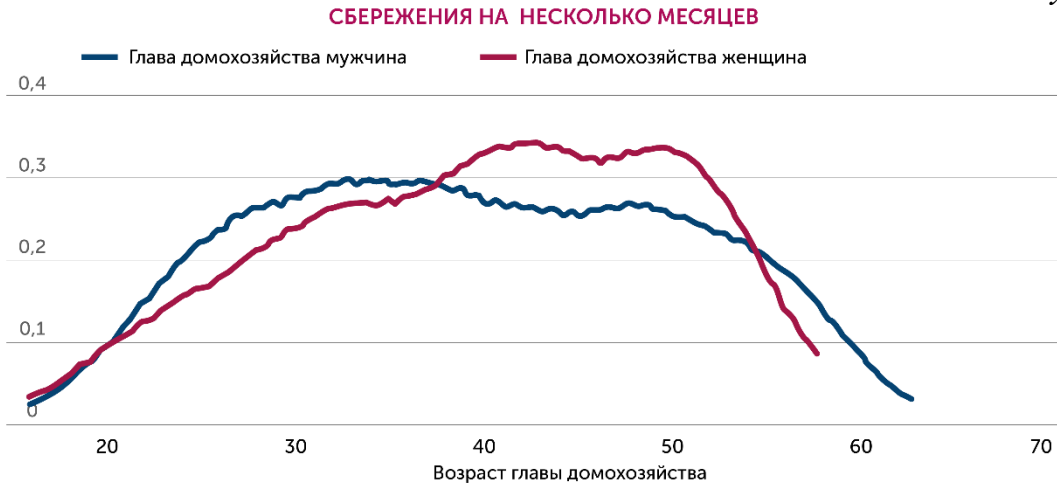


Рисунок 4

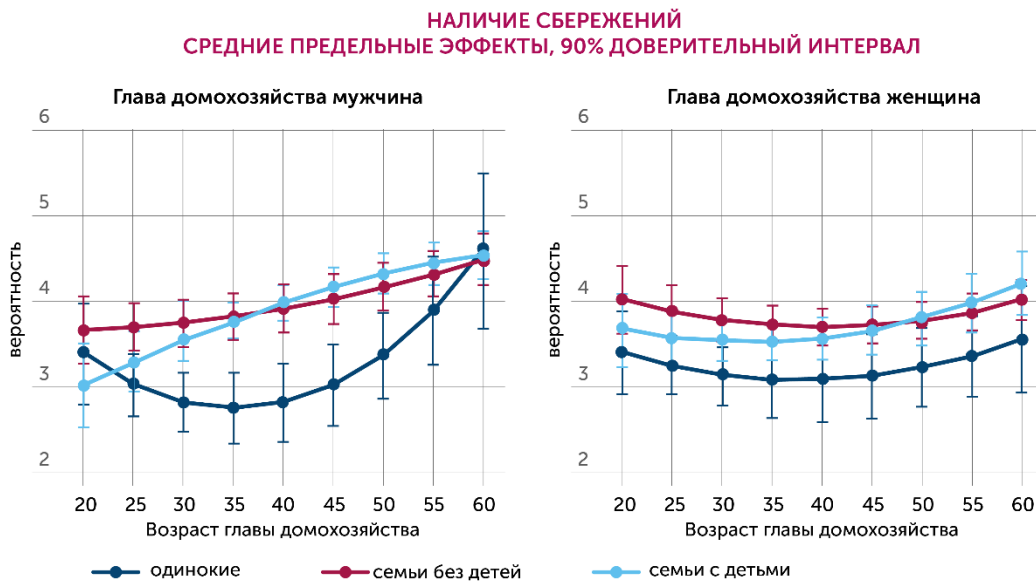


Рисунок 5

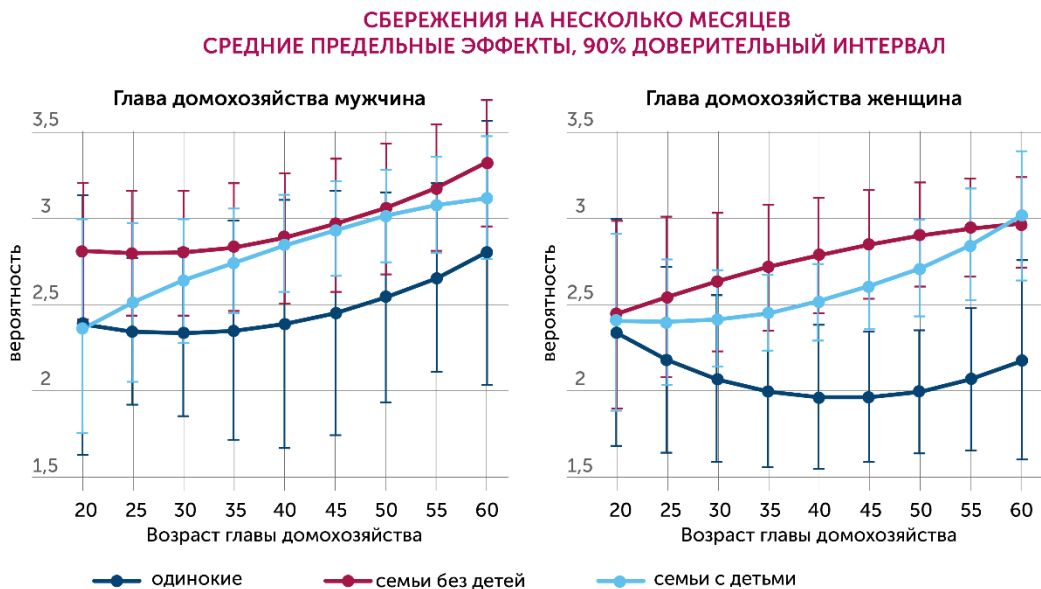


Рисунок 6

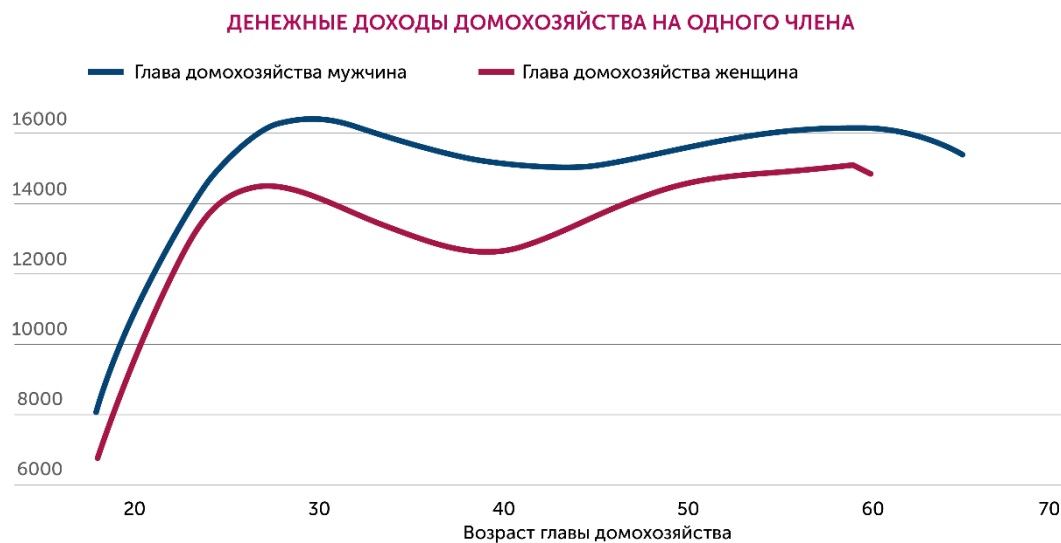
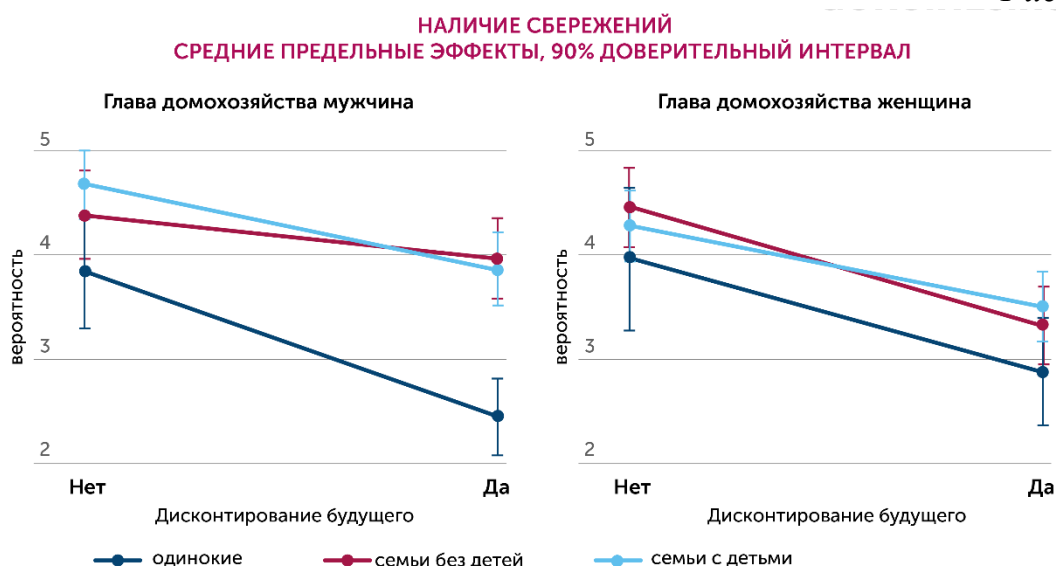


Рисунок 7



2.1.

Сформулируйте гипотезу проведённого исследования.

2.2.

На основе представленных результатов сформулируйте три полученных исследователями вывода.

2.3.

Чем можно объяснить выводы, приведённые Вами в задании 2.2? Каждое обоснование должно соотноситься с конкретным выводом из задания 2.2.

2.4.

Какую тенденцию в отношении сбережений, в том числе и в долгосрочном периоде, можно выявить? Чем она может быть объяснена?

2.5.

Приведите два значения сбережений домохозяйств на макроэкономическом уровне.

Задание 3.

Ознакомьтесь с условием задачи и выполните задания.

Семья Морозовых состоит из пяти человек. Папа работает аналитиком данных в инвестиционной компании, мама находится в отпуске по уходу за ребёнком. Старшая дочь Мария учится на очном отделении в университете, средняя дочь Мелания учится в 10-м классе, младшей дочери Мирре скоро исполнится два года. Семья владеет трёхкомнатной квартирой стоимостью 50 млн рублей и автомобилем.

3.1.

Для того, чтобы матери семейства Морозовых было удобно отвозить детей в учебные заведения, на секции, в поликлинику и просто передвигаться по городу, супруг решил приобрести ещё один автомобиль. 9 марта 2024 года Морозов подарил своей супруге автомобиль мощностью 165 л. с. и стоимостью 5 млн рублей.

А) Укажите точную дату, до которой семье нужно будет уплатить первый транспортный налог за этот автомобиль?

Б) Мелания задумалась над разными подходами к взиманию транспортного налога: в виде фиксированной суммы в год за каждую лошадиную силу мощности двигателя или в виде надбавки к стоимости бензина каждый раз во время заправки. Какой из подходов Вы считаете наиболее обоснованным с точки зрения а) налогоплательщика и б) с точки зрения государства как собирателя налогов? Аргументируйте свою позицию в каждом случае.

В) Налоги – это обязательные платежи, поэтому избежать их уплаты не получится. Но можно вернуть часть уплаченных налогов. Укажите три основания для оформления налогового вычета.

3.2.

В прошлом месяце в соседнем доме случился пожар, в ходе которого несколько квартир пострадали от огня, а несколько были затоплены при тушении. После этого происшествия глава семьи задумался о страховании.

А) На основании условия задачи предположите ключевые страхуемые риски Морозовых, систематизировав их по основным отраслям. Укажите отрасль и на каждую приведите по два риска.

Б) Приведите три примера обязательного страхования в Российской Федерации. Для каждого из них приведите объяснение, почему государство уделило особое внимание именно этому виду страхования.

В) В декабре 2024 года начал процедуру банкротства банк, в котором Морозовы держали рублёвый депозит в размере 1 000 000 рублей под 20% годовых и валютный депозит на 5 000 долларов под 2% годовых.

Покроет ли действующий лимит страхового возмещения всю сумму по депозитам Морозовых, если валютный курс ЦБ на день наступления страхового случая составлял 100 рублей? Объясните свой ответ.

Г) Перед оформлением полиса страхования Морозовы обратились к финансовому консультанту. Какие три рекомендации по финансово грамотному поведению по оформлению страховки он мог им дать?

3.3.

В одной из соцсетей Мария разместила пост о том, что она ищет возможности для заработка в свободное от учёбы время. На следующий день ей написала девушка, предложившая стать администратором лотереи. Мария должна была отправлять выигрыш победителям со своей карты.

А) Как принято называть людей, которые участвуют в описанной в условии задачи финансовой схеме?

Б) Какие виды юридической ответственности могут наступить за описанные действия?

В) Укажите глобальную угрозу, к которой ведет распространение нелегального явления, описанного в тексте.

Г) Приведите три рекомендации, как не стать тем, кого Вы указали в пункте А.